

Варіант 1

1. Крайня північна точка Північної Америки:

А мис Принца Уельського;

В мис Сент-Чарльз;

Б мис Мар'ято;

Г мис Мерчісон.

А Б В Г

--	--	--	--

2. Затока, яка омиває південні береги Північної Америки:

А Гудзонова;

В Мексиканська;

Б Аляска;

Г Святого Лаврентія.

А Б В Г

--	--	--	--

3. Тектонічні структури, з яких складена основа материка Північна Америка:

А Північноамериканська давня платформа та Кордильєрська

область молоді складчастості;

Б Північноамериканська молода платформа та Кордильєрська

область давньої складчастості;

В Північноамериканська давня платформа й Аппалачська область молоді складчастості;

Г Північноамериканська молода платформа й Аппалачська область давньої складчастості.

А Б В Г

--	--	--	--

4. Форма рельєфу, який займає більшу частину Північної Америки:

А гори;

В плоскогір'я;

Б рівнини;

Г нагір'я.

А Б В Г

--	--	--	--

5. Вкажіть давні й дуже зруйновані гори Північної Америки:

А Скелясті;

В Аппалачі;

Б Анди;

Г Кордильєри.

А Б В Г

--	--	--	--

6. Тип клімату, який формується в помірному кліматичному поясі на західному узбережжі Північної Америки:

А морський;

В мусонний;

Б помірно континентальний;

Г середземноморський.

А Б В Г

--	--	--	--

7. Ознаки, характерні для клімату субарктичного кліматичного поясу Північної Америки:

А протягом року тут панують холодні й сухі повітряні маси; розташований один із полюсів холоду Північної півкулі (-70°C); тривалий сніговий покрив і зледеніння;

Б влітку панують помірні повітряні маси, температура повітря піднімається в середньому до $+10^{\circ}\text{C}$, взимку часто буває значно холодніше, ніж на островах Канадського Арктичного архіпелагу;

В характерні сезонні відмінності: жарке літо ($+18\dots+24^{\circ}\text{C}$) змінюється холодною (до -20°C) зимою, опадів 400-600 мм за рік;

Г жарке вологе літо змінюється порівняно холодною для цих широт зимою, під час якої панують помірні континентальні повітряні маси; середньорічна кількість опадів становить 200-400 мм.

А Б В Г

--	--	--	--

8. Причиною відмінності в нагріванні суходолу біля мисів Мерчісон і Мар'ято на материк Північна Америка є:

А вплив теплих і холодних течій;

Б зміна характеру підстилаючої поверхні території;

В різна віддаленість територій від екватора;

Г вплив атмосферної циркуляції.

А Б В Г

--	--	--	--

9. Річкова система Північної Америки, яка належить до басейну Атлантичного океану:

А Маккензі;

В Юкон;

Б Колорадо;

Г Святого Лаврентія.

А Б В Г

--	--	--	--

10. Озеро, для якого характерні такі ознаки: *Утворилося як залишок давньої морської водойми, змінює свою площу і солоність заєжно від кількості атмосферних опадів:*

А Велике Солоне;

В Нікарагуа;

Б Велике Ведмеже;

Г Верхне.

А Б В Г

--	--	--	--

11. Меридіональне простягання деяких природних зон у середній частині материка Північна Америка зумовлене:

А наростанням віддаленості території від екватора;

Б наростанням віддаленості території від Північного Льодовитого океану;

В особливостями поширення на материк гірських систем;

Г рівнинним характером території цієї частини материка.

А Б В Г

--	--	--	--

12. Природна область Північної Америки, для якої характерні такі ознаки: *Має вигляд великих східчастих плато, що піднімаються зі сходу на захід; поверхня складена рихлими породами, тому дуже розчленована ярами й балками; найбільш розчленовані ділянки зі складним і чудернацьким рельєфом отримали назву «бедленд» (дурні землі):*

А Аппалачі;

В Великі рівнини;

Б Центральні рівнини;

Г Лаврентійська височина.

А Б В Г

--	--	--	--

13. Вкажіть три ознаки, характерні для Лаврентійської височини;

- А розміщена на щиті, має рівнинно-горбисту поверхню;
- Б майже скрізь поширена багаторічна мерзлота;
- В тут розташована найбільша у світі карстова печера;
- Г тваринний світ представлений бурими ведмедами, вовками, лосями; д
- Д добре розвинене землеробство завдяки родючим ґрунтам;
- Е територія вкрита тундровою і лісотундровою рослинністю.

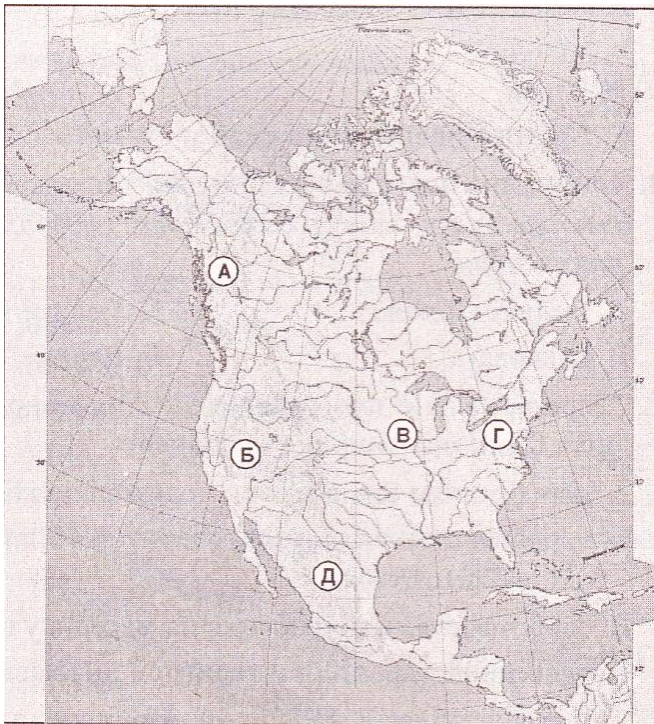
А	
Б	
В	
Г	
Д	
Е	

14. Встановіть відповідність між географічними об'єктами Північної Америки та їх назвами:

- | | |
|-----------|---------------|
| 1 озеро; | А Аляска; |
| 2 річка; | Б Мічиган; |
| 3 затока; | В Юкон; |
| 4 течія. | Г Лабрадор; |
| | Д Гольфстрім. |

	А	Б	В	Г	Д
1					
2					
3					
4					

15. Встановіть відповідність між назвами форм рельєфу Північної Америки та буквами, якими вони позначені на картосхемі:



- 1 Великий Басейн;
- 2 Мексиканське нагір'я;
- 3 Центральні рівнини;
- 4 гори Аппалачі.

	А	Б	В	Г	Д
1					
2					
3					
4					

16. Вкажіть послідовність зміни географічних об'єктів уздовж східного узбережжя Північної Америки, починаючи від Канадського Арктичного архіпелагу:

- А Карибське море;
- Б півострів Лабрадор;
- В острів Ньюфаундленд;
- Г півострів Флорида.

	А	Б	В	Г
1				
2				
3				
4				

17. Вкажіть послідовність зміни природних зон помірного кліматичного поясу Північної Америки, починаючи від узбережжя Атлантичного океану:

- А степи;
- Б пустелі;
- В мішані ліси;
- Г лісостепи.

	А	Б	В	Г
1				
2				
3				
4				

18. Порівняйте гірські системи Кордильєр і Аппалачів за географічним положенням, територією поширення, віком, походженням, висотою, формами рельєфу, сучасними горотворчими процесами.

Варіант 2

1. Крайня південна точка Північної Америки:
А мис Принца Уельського; **Б** мис Мар'ято;
В мис Сент-Чарльз; **Г** мис Мерчісон.
2. Затока, яку моряки часто називають «мішком із кригою»:
А Аляска; **Б** Мексиканська;
В Гудзонова; **Г** Святого Лаврентія.
3. Горотворчі епохи, під час яких утворилися гори Кордильєри:
А байкальська та каледонська; **Б** каледонська та герцинська;
В герцинська та мезозойська; **Г** мезозойська та альпійська.
4. На Канадському щиті розміщені:
А Центральні рівнини; **Б** Лаврентійська височина;
В Скелясті гори; **Г** Великі рівнини.
5. Найвищою вершиною Північної Америки є:
А гора Мак-Кінлі; **Б** вулкан Попокатепетль;
В гора Мітчел; **Г** вулкан Орісаба.
6. Гори Аппалачі зглажені й невисокі, тому що:
А вони утворилися відносно недавно як високі, але складаються переважно з порід, які легко руйнуються;
Б вони утворилися під час давніх складчастих епох і зазнали тривалого руйнування;
В їхні вершини зрізані та «обточені» льодовиками, які наступали з півночі;
Г вони зазнали тривалого тектонічного опускання.
7. Тип клімату, який формується в помірному кліматичному поясі центральної частини Північної Америки:
А мусонний; **Б** континентальний;
В пустельний; **Г** морський.
8. Ознаки, характерні для континентального клімату помірної кліматичної пояси Північної Америки:
А протягом року тут панують холодні й сухі повітряні маси, розташований один з полюсів холоду Північної півкулі (-70 °С); тривалий сніговий покрив і зледеніння;
Б влітку панують помірні повітряні маси, тому температура повітря піднімається в середньому до +10 °С, однак взимку часто буває значно холодніше, ніж на островах Канадського Арктичного архіпелагу;
В жарке літо (+18. +24 °С) змінюється холодною (до-20 °С) зимою, опадів 400-600 мм за рік;
Г тепле сухе літо змінюється відносно вологою і нехолодною зимою (+8 °С), під час якої панують помірні морські повітряні маси; середньорічна кількість опадів становить 250-500 мм.
9. Річкова система Північної Америки, яка належить до басейну Північного Льодовитого океану:
А Міссісіпі; **Б** Маккензі;
В Юкон; **Г** Колумбія.
10. Річка, яка здійснює стік системи п'яти озер Північної Америки в Атлантичний океан:
А Міссісіпі; **Б** Святого Лаврентія;
В Маккензі; **Г** Ніагара.
11. Природні зони Північної Америки, які мають не широтне, а близьке до меридіонального простягання:
А мішані ліси, широколисті ліси, перемінно-вологі ліси;
Б тундра, лісотундра, тайга;
В тайга, мішані ліси, лісостеп;
Г лісостеп, степ, пустелі.
12. Природна область Північної Америки, для якої характерні такі ознаки: *В основі більшої частини залягає плита, покрита потужною товщею осадових відкладів; родючі ґрунти зумовили розвиток землеробства; тут розташована одна з найбільших у світі карстових печер:*
А Аппалачі; **Б** Лаврентійська височина;
В Центральні рівнини; **Г** Великі рівнини.

13. Вкажіть три ознаки, характерні для річки Колорадо:

- А бере початок на Великих рівнинах;
- Б належить до басейну Тихого океану;
- В живиться здебільшого мусонними дощами;
- Г утворює найглибший у світі каньйон;
- Д має переважно гірський характер течії;
- Е басейн річки розміщений на території Канади.

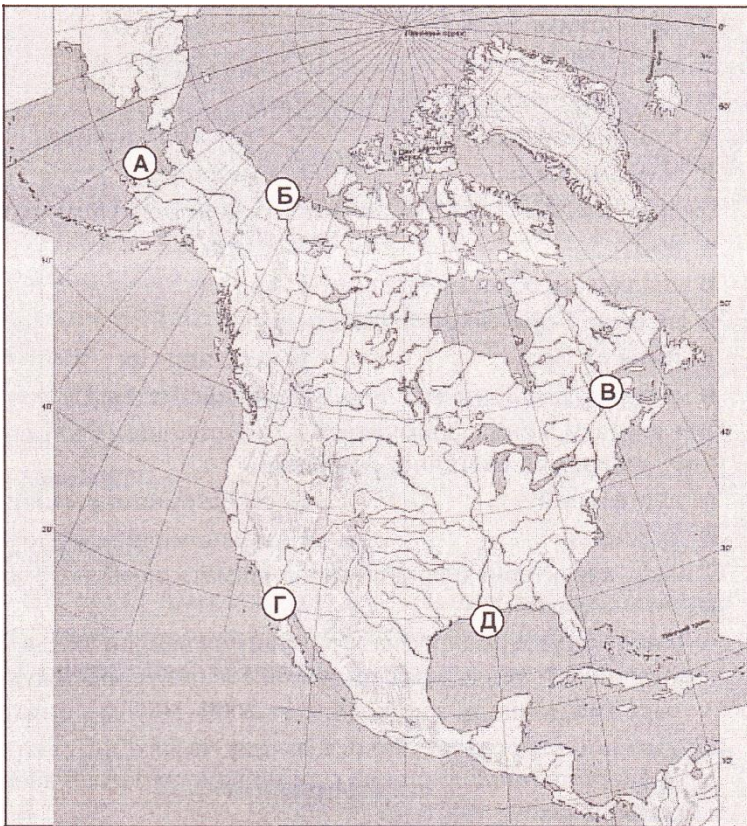
А	<input type="checkbox"/>
Б	<input type="checkbox"/>
В	<input type="checkbox"/>
Г	<input type="checkbox"/>
Д	<input type="checkbox"/>
Е	<input type="checkbox"/>

14. Встановіть відповідність між географічними об'єктами Північної Америки та їх назвами:

- | | |
|------------|--------------------|
| 1 височина | А Каліфорнійська; |
| 2 протока | Б Лаврентійська; |
| 3 затока | В Лабрадорська; |
| 4 низовина | Г Берингова; |
| | Д Примексиканська. |

	А	Б	В	Г	Д
1	<input type="checkbox"/>	<input type="checkbox"/>	<input type="checkbox"/>	<input type="checkbox"/>	<input type="checkbox"/>
2	<input type="checkbox"/>	<input type="checkbox"/>	<input type="checkbox"/>	<input type="checkbox"/>	<input type="checkbox"/>
3	<input type="checkbox"/>	<input type="checkbox"/>	<input type="checkbox"/>	<input type="checkbox"/>	<input type="checkbox"/>
4	<input type="checkbox"/>	<input type="checkbox"/>	<input type="checkbox"/>	<input type="checkbox"/>	<input type="checkbox"/>

15. Встановіть відповідність між назвами річок Північної Америки та буквами, якими позначені їх гирла на картосхемі:



- 1 Маккензі;
- 2 Колорадо;
- 3 Св. Лаврентія;
- 4 Міссісіпі.

	А	Б	В	Г	Д
1	<input type="checkbox"/>	<input type="checkbox"/>	<input type="checkbox"/>	<input type="checkbox"/>	<input type="checkbox"/>
2	<input type="checkbox"/>	<input type="checkbox"/>	<input type="checkbox"/>	<input type="checkbox"/>	<input type="checkbox"/>
3	<input type="checkbox"/>	<input type="checkbox"/>	<input type="checkbox"/>	<input type="checkbox"/>	<input type="checkbox"/>
4	<input type="checkbox"/>	<input type="checkbox"/>	<input type="checkbox"/>	<input type="checkbox"/>	<input type="checkbox"/>

16. Вкажіть послідовність зміни географічних об'єктів уздовж західного узбережжя Північної Америки, починаючи від мису Принца Уельського:

- А Берингове море;
- Б півострів Каліфорнія;
- В Алеутські острови;
- Г затока Аляска.

	А	Б	В	Г
1	<input type="checkbox"/>	<input type="checkbox"/>	<input type="checkbox"/>	<input type="checkbox"/>
2	<input type="checkbox"/>	<input type="checkbox"/>	<input type="checkbox"/>	<input type="checkbox"/>
3	<input type="checkbox"/>	<input type="checkbox"/>	<input type="checkbox"/>	<input type="checkbox"/>
4	<input type="checkbox"/>	<input type="checkbox"/>	<input type="checkbox"/>	<input type="checkbox"/>

17. Вкажіть послідовність зміни природних зон Північної Америки, починаючи від узбережжя Північного Льодовитого океану:

- А тайга;
- Б арктичні пустелі;
- В мішані ліси;
- Г тундра.

	А	Б	В	Г
1	<input type="checkbox"/>	<input type="checkbox"/>	<input type="checkbox"/>	<input type="checkbox"/>
2	<input type="checkbox"/>	<input type="checkbox"/>	<input type="checkbox"/>	<input type="checkbox"/>
3	<input type="checkbox"/>	<input type="checkbox"/>	<input type="checkbox"/>	<input type="checkbox"/>
4	<input type="checkbox"/>	<input type="checkbox"/>	<input type="checkbox"/>	<input type="checkbox"/>

18. Чому надра Північної Америки багаті на різноманітні корисні копалини рудні, так і паливні?

Варіант 3

1. Крайня східна точка Північної Америки:

А мис Принца Уельського;

В мис Сент-Чарльз;

Б мис Мар'ято;

Г мис Мерчисон.

А Б В Г

--	--	--	--

2. Затока, яка є частиною Тихого океану:

А Каліфорнійська;

В Мексиканська;

Б Святого Лаврентія;

Г Гудзонова.

А Б В Г

--	--	--	--

3. Тектонічна структура, яка лежить в основі Центральних та Великих рівнин:

А щит;

В складчаста область;

Б плита;

Г грабен.

А Б В Г

--	--	--	--

4. За висотою Кордильєри належать до:

А низьких гір;

В високих гір;

Б середніх гір;

Г найвищих гір.

А Б В Г

--	--	--	--

5. Тип клімату, який сформувався в субтропічному кліматичному поясі на західному узбережжі Північної Америки:

А пустельний;

В мусонний;

Б середземноморський;

Г з рівномірним зволоженням.

А Б В Г

--	--	--	--

6. Ознаки, характерні для морського клімату помірного кліматичного поясу Північної Америки:

А охоплює узбережжя Тихого океану та західні схили Кордильєр; тепла зима та нежарке літо супроводжуються рясними дощами; за рік випадає 2000-3000 мм опадів;

Б охоплює узбережжя Тихого океану та західні схили Кордильєр; найхарактернішою рисою є зміна вологості теплої зими сухим жарким літом;

В займає східну частину материка; зима холодна, літо не дуже жарке; середньорічна кількість опадів до 1000 мм; вони випадають переважно влітку;

Г охоплює найвужчу частину континенту; високі температури упродовж року майже не зазнають сезонних коливань; за рік випадає 2000-3000 мм опадів; переважно влітку.

А Б В Г

--	--	--	--

7. На узбережжі Мексиканської затоки взимку бувають від'ємні температури, тому що:

А на клімат впливає Лабрадорська холодна течія;

Б на рівнини східної частини материка просуваються арктичні повітряні маси з півночі;

В впливають холодні західні вітри, що дмуть з гір Кордильєр;

Г тут формується сезонна область високого тиску - Північноамериканський антициклон.

А Б В Г

--	--	--	--

8. Річкова система Північної Америки, яка належить до басейну Тихого океану:

А Колумбія;

В Маккензі;

Б Міссісіпі;

Г Святого Лаврентія.

А Б В Г

--	--	--	--

9. Річка, яка перетинаючи високе плато, глибоко врізається в земну поверхню й утворює найглибший у світі каньйон:

А Колумбія;

В Колорадо;

Б Ніагара;

Г Святого Лаврентія.

А Б В Г

--	--	--	--

10. Корінних мешканців Америки в Європі називали індіанцями, тому що:

А їхні предки свого часу переселилися сюди з Індії;

Б їх зовнішній вигляд і спосіб життя подібні до мешканців Індії;

В перші європейці, які досягли берегів Америки, вважали, що прибули до Індії;

Г корінні мешканці самі себе так назвали європейцям, які вперше прибули сюди.

А Б В Г

--	--	--	--

11. Територія, на якій розташована безстічна область у Північній Америці:

А Центральні рівнини;

В Великі рівнини;

Б нагір'я Великого Басейну;

Г Мексиканське нагір'я.

А Б В Г

--	--	--	--

12. Природна область Північної Америки, для якої характерні такі ознаки: *Розташована на щиті, тому поверхня її рівнинно-горбиста. Майже скрізь поширена багаторічна мерзлота, росте тундрова та лісотундрова рослинність:*

А Великі рівнини; Б Центральні рівнини;

В Аппалачі; Г Лаврентійська височина.

А Б В Г

--	--	--	--

13. Вкажіть три ознаки, характерні для морського клімату помірного кліматичного поясу Північної Америки:

- А поширюється на найбільшу площу серед усіх типів клімату помірного поясу;
- Б для нього характерні відносно тепла зима і нежарке літо;
- В охоплює узбережжя Тихого океану та західних схилів Кордильєр;
- Г формується під впливом мусонних вітрів;
- Д більшість опадів у ньому випадає взимку; Е середньорічна кількість опадів майже така ж, як на екваторі.

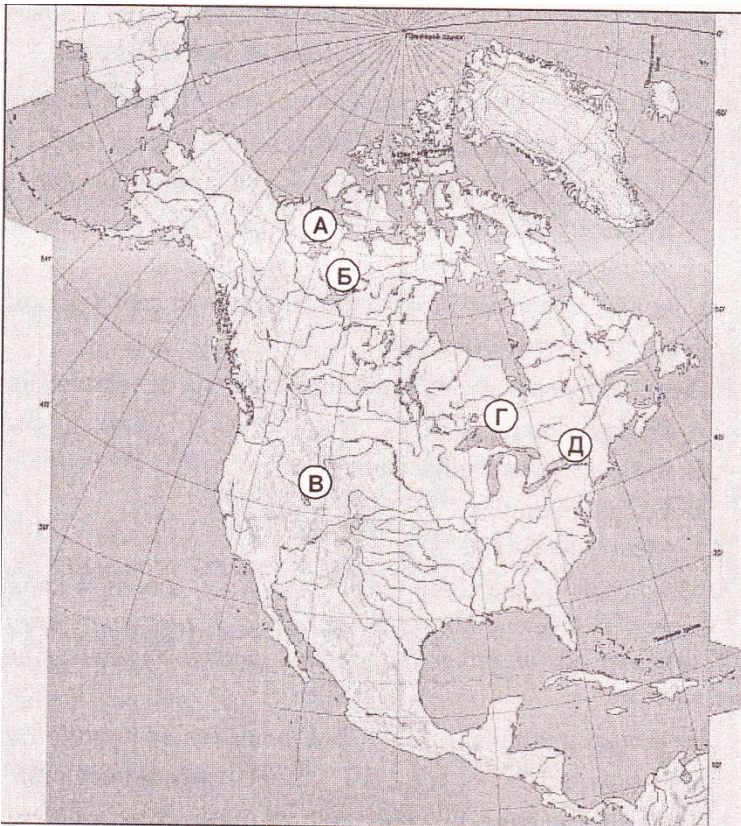
А	
Б	
В	
Г	
Д	
Е	

14. Встановіть відповідність між природними зонами Північної Америки та територіями, де вони сформувалися:

- | | |
|--------------------------|-----------------------------|
| 1 тундра; | А Центральні рівнини; |
| 2 мішані ліси; | Б Великі рівнини; |
| 3 прерії; | В півострів Каліфорнія; |
| 4 перемінно-вологі ліси. | Г Примексиканська низовина; |
| | Д Лаврентійська височина. |

	А	Б	В	Г	Д
1					
2					
3					
4					

15. Встановіть відповідність між назвами озер Північної Америки та буквами, якими вони позначені на картосхемі:



- 1 Верхнє;
- 2 Велике Ведмеже;
- 3 Онтаріо;
- 4 Велике Невільниче.

	А	Б	В	Г	Д
1					
2					
3					
4					

16. Вкажіть послідовність зміни географічних об'єктів Північної Америки від узбережжя Атлантичного океану до узбережжя Тихого океану:

- А Великі рівнини;
- Б гори Аппалачі;
- В Скелясті гори;
- Г Центральні рівнини.

	А	Б	В	Г
1				
2				
3				
4				

17. Вкажіть послідовність зміни ареалів проживання тварин на території Північної Америки, починаючи від Канадського арктичного архіпелагу:

- А бізон;
- Б вівцебик;
- В білий ведмідь;
- Г ведмідь - барібал.

	А	Б	В	Г
1				
2				
3				
4				

18. На які кліматичні області поділяють помірний кліматичний пояс Північної Америки? Чим зумовлений цей поділ?

Вчитель Голянич Н.І.

Варіант 4

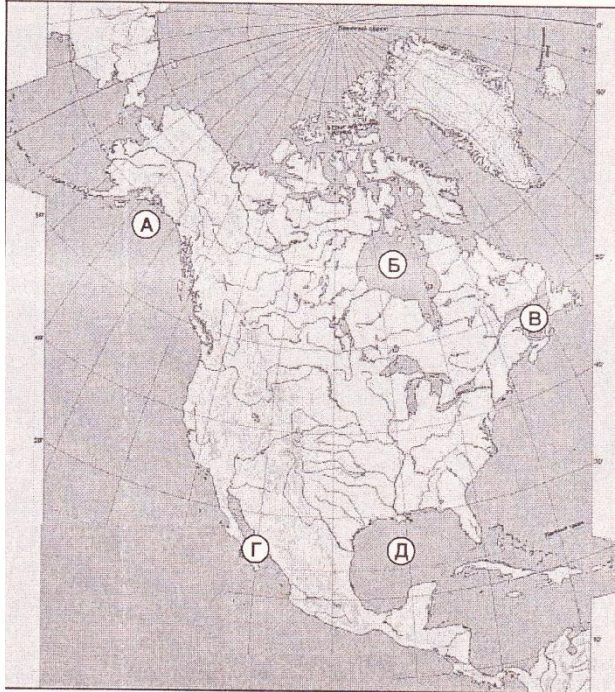
1. Крайня західна точка Північної Америки:
А мис Принца Уельського; **Б** мис Мар'ято;
В мис Сент-Чарльз; **Г** мис Мерчісон.
- А Б В Г
2. Затока, у якій спостерігають найбільші припливи:
А Каліфорнійська; **Б** Фанді;
В Мексиканська; **Г** Аляска.
- А Б В Г
3. Великий Каньйон на плато Колорадо утворився в результаті:
А тектонічного розлому земної кори;
Б руйнівної роботи гірського льодовика;
В руйнівної роботи підземних вод і тимчасових водотоків;
Г глибинної річкової ерозії.
- А Б В Г
4. Найбільш підняті над рівнем моря:
А Центральні рівнини; **Б** Лаврентійська височина;
В Великі рівнини; **Г** Міссісіпська низовина.
- А Б В Г
5. Аппалачі за висотою належать до:
А низьких гір; **Б** високих гір;
В середніх гір; **Г** найвищих гір.
- А Б В Г
6. Материк, який у загальних рисах має подібну до Північної Америки будову поверхні та географічне розташування основних форм рельєфу — рівнин і гірських систем:
А Африка; **Б** Австралія;
В Антарктида; **Г** Південна Америка.
- А Б В Г
7. Тип клімату, який сформувався на крайньому півдні Північної Америки:
А екваторіальний; **Б** середземноморський;
В морський; **Г** субекваторіальний.
- А Б В Г
8. Ознаки, характерні для середземноморського клімату субтропічного кліматичного поясу Північної Америки:
А охоплює узбережжя Тихого океану та західні схили Кордильєр; не холодна зима та не жарке літо супроводжуються рясними дощами; за рік випадає 2000-3000 мм опадів;
Б охоплює узбережжя Тихого океану та західні схили Кордильєр; найхарактернішою рисою є зміна відносно вологої теплої зими сухим літом; за рік випадає 250-500 мм опадів;
В займає східну частину материка; зима холодна, літо не дуже жарке; середньорічна кількість опадів до 1000 мм; вони випадають переважно влітку;
Г охоплює найвужчу частину континенту; високі температури упродовж року майже не зазнають сезонних коливань; за рік випадає 2000-3000 мм опадів; переважно влітку.
- А Б В Г
9. Найбільша кількість опадів у Північній Америці випадає у вузькій прибережній смузі на північному заході материка, тому що:
А значна кількість вологи приноситься літнім мусоном з Тихого океану;
Б територія перебуває під постійним впливом пасатного перенесення вологого повітря з Атлантичного океану;
В територія перебуває під постійним впливом західного перенесення вологого повітря з Тихого океану;
Г насиченню повітря вологою додатково сприяє тепла течія Гольфстрім.
- А Б В Г
10. Річка, яка має гірський характер течії майже вдовж усього свого річища:
А Міссісіпі; **Б** Святого Лаврентія;
В Міссурі; **Г** Колумбія.
- А Б В Г
11. Річка, для якої характерні такі ознаки: *Утворилася внаслідок стоку води між двома озерами. Дійшовши до уступу, вона скочується вниз потужним водоспадом, гуркіт якого чути на значну відстань:*
А Колорадо; **Б** Святого Лаврентія;
В Колумбія; **Г** Ніагара.
- А Б В Г
12. Вкажіть природну область Північної Америки, для якої характерні такі ознаки: *Територія сформувалася під час герцинської складчастості; поширені мішані та широколистяні ліси; короткі, але бурхливі річки мають великі запаси гідроенергії:*
А Скелясті гори; **Б** Лаврентійська височина;
В Берегові хребти; **Г** Аппалачі.
- А Б В Г

13. Вкажіть три причини, які пояснюють, чому найбільша кількість опадів у Північній Америці випадає у вузькій прибережній смузі Тихого океану на північному заході материка.

- А велику кількість вологи приносить літній мусон з океану;
- Б територія перебуває під постійним впливом західного перенесення вологого повітря;
- В територія перебуває під постійним впливом вологих пасатних вітрів; р
- Г тут постійно відбувається зіткнення арктичних, помірних і тропічних д повітряних мас;
- Д насиченню повітря вологою сприяє тепла океанічна течія;
- Е осадження вологи відбувається на схилах гірських хребтів, що простягнулись уздовж узбережжя.

А	<input type="checkbox"/>
Б	<input type="checkbox"/>
В	<input type="checkbox"/>
Г	<input type="checkbox"/>
Д	<input type="checkbox"/>
Е	<input type="checkbox"/>

14. Встановіть відповідність між назвами заток, які омивають Північну Америку, та буквами, якими вони позначені на картосхемі:



- 1 Аляска;
- 2 Гудзонова;
- 3 Каліфорнійська;
- 4 Мексиканська.

	А	Б	В	Г	Д
1	<input type="checkbox"/>	<input type="checkbox"/>	<input type="checkbox"/>	<input type="checkbox"/>	<input type="checkbox"/>
2	<input type="checkbox"/>	<input type="checkbox"/>	<input type="checkbox"/>	<input type="checkbox"/>	<input type="checkbox"/>
3	<input type="checkbox"/>	<input type="checkbox"/>	<input type="checkbox"/>	<input type="checkbox"/>	<input type="checkbox"/>
4	<input type="checkbox"/>	<input type="checkbox"/>	<input type="checkbox"/>	<input type="checkbox"/>	<input type="checkbox"/>

15. Встановіть відповідність між країнами Північної Америки та їх столицями:

- 1 Сполучені штати Америки;
- 2 Канада;
- 3 Мексика;
- 4 Куба.
- А Мехіко;
- Б Нью-Йорк;
- В Вашингтон;
- Г Оттава;
- Д Гавана.

	А	Б	В	Г	Д
1	<input type="checkbox"/>	<input type="checkbox"/>	<input type="checkbox"/>	<input type="checkbox"/>	<input type="checkbox"/>
2	<input type="checkbox"/>	<input type="checkbox"/>	<input type="checkbox"/>	<input type="checkbox"/>	<input type="checkbox"/>
3	<input type="checkbox"/>	<input type="checkbox"/>	<input type="checkbox"/>	<input type="checkbox"/>	<input type="checkbox"/>
4	<input type="checkbox"/>	<input type="checkbox"/>	<input type="checkbox"/>	<input type="checkbox"/>	<input type="checkbox"/>

16. У системі Великих озер Північної Америки вкажіть озера в послідовності за напрямком стоку їх води:

- А Ері;
- Б Гурон;
- В Онтаріо;
- Г Верхнє.

	А	Б	В	Г
1	<input type="checkbox"/>	<input type="checkbox"/>	<input type="checkbox"/>	<input type="checkbox"/>
2	<input type="checkbox"/>	<input type="checkbox"/>	<input type="checkbox"/>	<input type="checkbox"/>
3	<input type="checkbox"/>	<input type="checkbox"/>	<input type="checkbox"/>	<input type="checkbox"/>
4	<input type="checkbox"/>	<input type="checkbox"/>	<input type="checkbox"/>	<input type="checkbox"/>

17. Вкажіть послідовність зміни кліматичних поясів на території Північної Америки, починаючи від Канадського Арктичного архіпелагу:

- А субекваторіальний;
- Б помірний;
- В тропічний;
- Г субтропічний.

	А	Б	В	Г
1	<input type="checkbox"/>	<input type="checkbox"/>	<input type="checkbox"/>	<input type="checkbox"/>
2	<input type="checkbox"/>	<input type="checkbox"/>	<input type="checkbox"/>	<input type="checkbox"/>
3	<input type="checkbox"/>	<input type="checkbox"/>	<input type="checkbox"/>	<input type="checkbox"/>
4	<input type="checkbox"/>	<input type="checkbox"/>	<input type="checkbox"/>	<input type="checkbox"/>

18. Які природні зони Північної Америки мають широтне простягання, а які меридіональне? Поясніть причини цього.