

Діяльність якого гетьмана можна характеризувати, спираючись на подану карту?



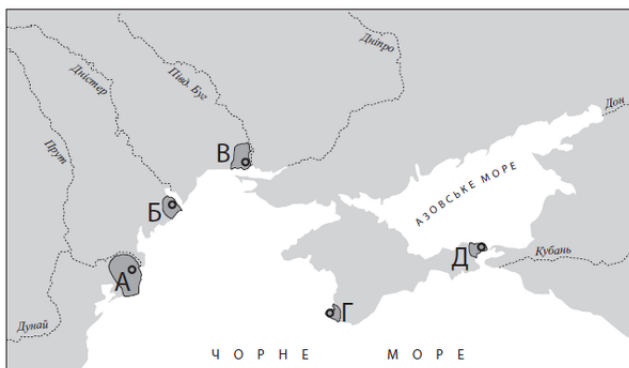
- А** Б. Хмельницького
- Б** І. Виговського
- В** Д. Многогрішного
- Г** І. Самойловича

Перебіг яких подій Першої світової війни відображено на карті?



- А** Галицької битви (1914 р.)
- Б** Карпатської операції (1915 р.)
- В** Горлицької операції (1915 р.)
- Г** Брусиловського прориву (1916 р.)

Установіть відповідність між назвами античних міст-колоній Північного Причорномор'я і Криму та їхнім місцем розташування.



- 1** Ольвія
- 2** Пантікапей
- 3** Херсонес
- 4** Тіра



Діяльність якого гетьмана можна характеризувати, спираючись на подану карту?

- А** П. Тетері
- Б** І. Самойловича
- В** Ю. Хмельницького
- Г** І. Мазепи

На карті суцільною жирною лінією позначено територію



А поширення влади Генерального Секретаріату згідно з «Тимчасовою інструкцією...» Тимчасового уряду Росії.

Б Української Народної Республіки згідно з Третім Універсалом Української Центральної Ради.

В Української Держави гетьмана Павла Скоропадського.

Г Української Соціалістичної Радянської Республіки.

Що на карті позначено суцільною жирною лінією?



А традиційний шлях збирання полюддя за часів князування Олега

Б шлях місії єпископа Адальберга до Києва та Константинополя

В походи князя Святослава на Новгород і Візантію

Г військово-торговельний «шлях із варягів у греки»

Який князь відіграв провідну роль в організації походів, напрямки яких позначено на карті?



- А** Ярослав Мудрий
- Б** Володимир Мономах
- В** Ярослав Осмомисл
- Г** Данило Галицький

Що стало наслідком подій, перебіг яких відображено на карті?



- А** капітуляція Австро-Угорщини та проголошення ЗУНР
- Б** вступ у світову війну Німеччини на боці Австро-Угорщини
- В** демократична революція та повалення самодержавства в Росії
- Г** створення Галицько-Буковинського генерал-губернаторства

На карті жирною лінією позначено межі Київської Русі за часів князювання



- А** Аскольда.
- Б** Олега.
- В** Святослава.
- Г** Володимира.

Спираючись на подану карту, можна схарактеризувати зовнішньополітичну діяльність гетьмана



- А** Д. Вишневецького.
- Б** П. Сагайдачного.
- В** Б. Хмельницького.
- Г** П. Дорошенка.

Територію якого державного утворення позначено на карті жирною лінією?



- А** Української Народної Республіки (листопад 1917 р.)
- Б** Української Держави П. Скоропадського (квітень 1918 р.)
- В** Української Народної Республіки (січень 1919 р.)
- Г** Української Соціалістичної Радянської Республіки (березень 1921 р.)

На карті позначено напрямки походів



- А** київського князя Володимира Великого на Червенські міста.
- Б** переяславського князя Володимира Мономаха проти половців.
- В** монгольського хана Батия на землі Південно-Західної Русі.
- Г** литовського князя Ольгерда на землі Західної Русі та Польщі.

Територію Гетьманщини, «...де його королівська милість дозволяє мати сорок тисяч війська запорозького, укладення реєстру козаків довіряє гетьманові Війська Запорозького, а посади всілякі обіцяє роздавати тут обивателям віри православної грецької», позначено на карті



А



Б



В



Г

На карті стрілками позначено напрямки походів



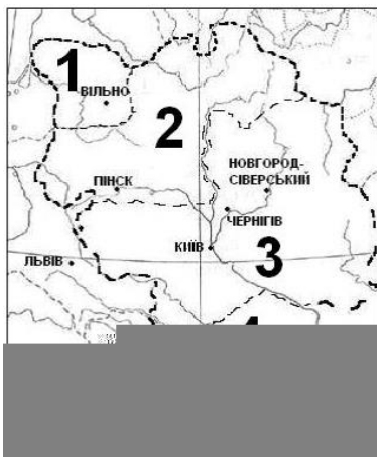
- А** турецько-татарського війська під час Хотинської війни 1620-1621 рр.
- Б** козацько-трансільванських військ полковника А. Ждановича 1656-1657 рр.
- В** турецько-татарсько-козацького війська 1672 р., 1677-1678 рр.
- Г** козацьких загонів гетьмана П. Орлика та його союзників у 1711 р., 1713 р.

Установіть відповідність між назвами давньоруських удільних князівств у період політичної роздробленості та їхніми теренами, позначеними на карті.



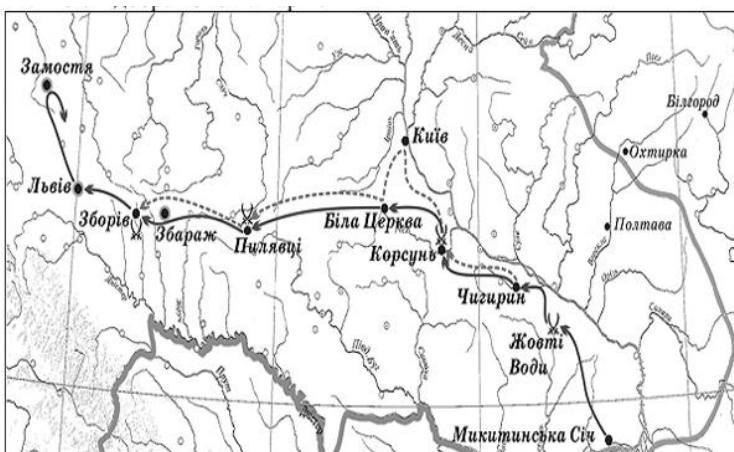
- 1 Київське
- 2 Галицьке
- 3 Волинське
- 4 Чернігівське

Якою цифрою на карті позначено землі, що увійшли до складу Великого князівства Литовського за часів правління князя Ольгерда?



- А 1
- Б 2
- В 3
- Г 4

Перебіг подій якого періоду Національно-визвольної війни українського народу середини XVII ст. відображено на карті?



- А Від початку збройного виступу до Зборівського договору.
- Б Від Зборівського до Білоцерківського договору.
- В Від Білоцерківського договору до Переяславської ради.
- Г Від Переяславської ради до Віленського перемир'я.

На карті заштриховано територію



- А** опришківського руху на чолі з О. Довбушем (1738 — 1745 рр.).
- Б** гайдамацького руху «Коліївщина» (1768 р.).
- В** дії прихильників Барської конфедерації (1768 — 1769 р.).
- Г** повстанського руху під проводом У. Кармелюка (1813 — 1835 рр.).

Якими цифрами на карті позначено регіональні радянські республіки, утворені більшовиками на початку 1918 р.?



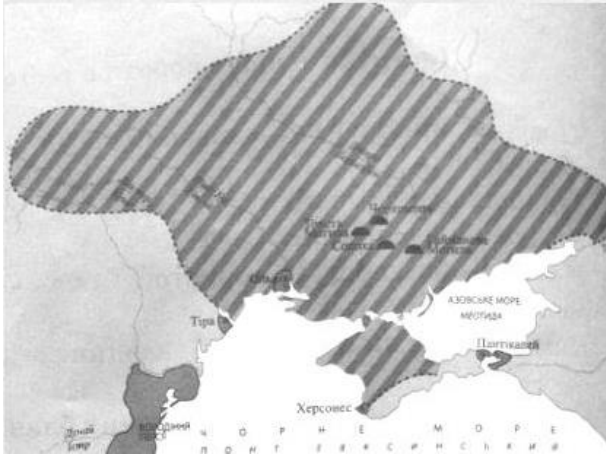
- А** 1,2,3
- Б** 2,3,4
- В** 1,3,4
- Г** 1,2,4

Якими цифрами на карті позначено території, на які розповсюджувалася влада І. Мазепи в 1704 — 1708 рр.?



- А** 1, 2
- Б** 1, 3
- В** 2, 3
- Г** 1, 2, 3

На карті заштриховано територіальні межі



- А** Антського царства.
- Б** Великої Скіфії.
- В** Боспорського царства.
- Г** Трипільської культури.

На карті жирною лінією позначено кордони Київської Русі за часів князювання



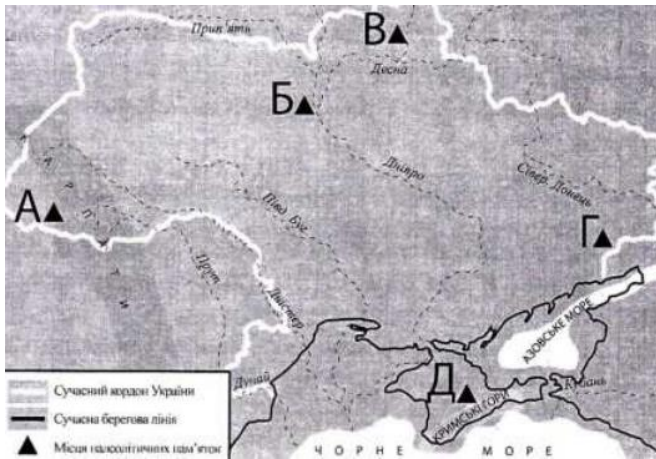
- А** Ігоря Рюриковича.
- Б** Святослава Ігоревича.
- В** Володимира Великого.
- Г** Ярослава Мудрого.

Перебіг яких подій відображено на карті?



- А** першої війни радянської Росії проти УНР (грудень 1917 — лютий 1918 рр.)
- Б** «Чортківської офензиві» Української галицької армії (червень 1919 р.)
- В** польсько-радянської війни (квітень — жовтень 1920 р.)
- Г** Другого «Зимового походу» Армії УНР (листопад 1921 р.)

Установіть відповідність між назвами палеолітичних пам'яток України та їхнім місцезнаходженням.



- 1 Кирилівка
- 2 Кйк-Коба
- 3 Королеве
- 4 Мізин

Спираючись на подану карту, можна схарактеризувати зовнішньополітичну діяльність князя



- А** Аскольда.
- Б** Олега.
- В** Ігоря.
- Г** Святослава.

Територію Війська Запорозького (Гетьманщини) відповідно до умов Зборівського договору (1649 р.) позначено на карті





Установіть відповідність між назвами воєводств Речі Посполитої, утворених на українських землях, та їхніми теренами, позначеними на карті.



- 1 Руське
- 2 Київське
- 3 Волинське
- 4 Подільське

Зображені на карті межі Київської Русі відносяться до періоду правління



- А Аскольда та Діра.
- Б Аскольда, Діра та Олега.
- В Олега, Ігоря та Ольги.
- Г Ольги, Святослава та Володимира

На карті суцільною жирною лінією позначено розподіл українських земель між



- А** Річчю Посполитою та Османською імперією.
- Б** Османською імперією та Великим князівством Литовським.
- В** Великим князівством Литовським і Московським царством.
- Г** Московським царством і Річчю Посполитою.

На картосхемі відображено перебіг подій



- А** Київської оборонної операції.
- Б** Битви за Дніпро.
- В** Умансько-Ботошанської операції.
- Г** Корсунь-Шевченківської операції.

Якою цифрою на карті позначено регіон, що ввійшов до складу Української РСР 1945 р.?



- А1**
- Б2**
- В3**
- Г4**

Відповідно до умов якого договору на карті позначено територію Війська Запорозького (Гетьманщини)?



- А** Зборівського, 1649 р.
- Б** Білоцерківського, 1651 р.
- В** Гадяцького, 1658 р.
- Г** Андрусівського, 1667 р.

Перебіг подій якого періоду Великої Вітчизняної війни відображено на карті?



- А** вересень — грудень 1943 р.
- Б** січень — травень 1944 р.
- В** серпень — жовтень 1944 р.
- Г** лютий — квітень 1945 р.

Установіть відповідність між пронумерованими на карті теренами давньоруських удільних князівств у період політичної роздробленості та їхніми назвами.



- А** Київське
- Б** Галицьке
- В** Волинське
- Г** Чернігівське
- Д** Переяславське

Зображену картосхему потрібно використовувати, характеризуючи боротьбу руських князів із



- А** хозарами
- Б** монголами
- В** печенігами
- Г** половцями

На картосхемі суцільною жирною лінією позначено кордон Речі Посполитої.



Штрихуванням на картосхемі позначено територію,

- А** передану Річчю Посполитою Османській імперії за умовами Бучацького договору (1672 р.).
- Б** уключену до складу Речі Посполитої за умовами «Вічного миру» (1686 р.).
- В** приєднану до володінь Австрійської монархії Габсбургів за результатами першого поділу Речі Посполитої (1772 р.).
- Г** уключену до складу Російської імперії за результатами третього поділу Речі Посполитої (1795 р.).

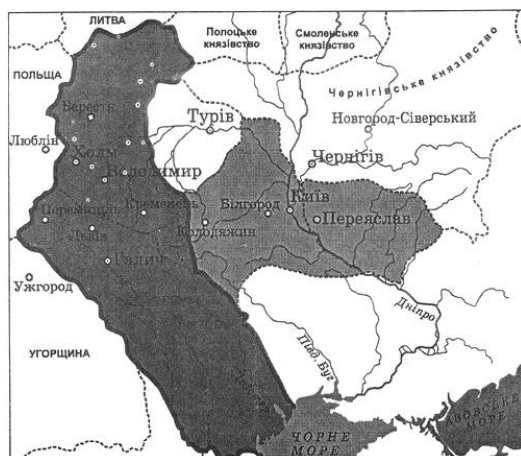
Проаналізуйте зображену картосхему.



Картосхема дає змогу

- 1 вказати райони антигетьманського повстанського руху влітку 1918 р.
- 2 визначити кордони Української Держави гетьмана П. Скоропадського.
- 3 вказати напрямки загального наступу німецько-австро-угорських військ у лютому-квітні 1918 р.
- 4 окреслити район формування українських радянських повстанських дивізій.
- 5 вказати межі територій регіональних радянських республік, утворених більшовиками в січні-березні 1918 р.
- 6 визначити один із підсумків переговорів українсько-німецької та радянської делегацій у травні 1918 р.
- 7 охарактеризувати адміністративно-територіальний устрій Української Народної Республіки.

На картосхемі позначено Галицько-Волинську державу та князівства, залежні від неї, за правління



- А Ярослава Осмомисла.
- Б Романа Мстиславовича.
- В Лева Даниловича.
- Г Юрія II Болеслава.

Події якого періоду Національно-визвольної війни українського народу середини XVII ст. відображено на картосхемі?



- А** від початку війни до Зборівського договору
- Б** від Зборівського до Білоцерківського договору
- В** від Білоцерківського договору до Переяславської ради
- Г** від Переяславської ради до смерті Б. Хмельницького

Установіть відповідність між пронумерованим на картосхемі адміністративним окупаційним утворенням часів Великої Вітчизняної війни (1941-1945 рр.) та його назвою й підпорядкуванням.



- А** рейхскомісаріат «Україна»
- Б** дистрикт «Галичина» у складі Генерал-губернаторства
- В** військова адміністрація німецького командування
- Г** рейхскомісаріат «Остланд»
- Д** провінція «Трансністрія» під управлінням румунської адміністрації

Установіть відповідність між пронумерованими на карті воєводствами Речі Посполитої та їхніми назвами.



- А** Волинське
- Б** Київське
- В** Руське
- Г** Брацлавське
- Д** Подільське

Походи яких київських князів відображено на картосхемі?



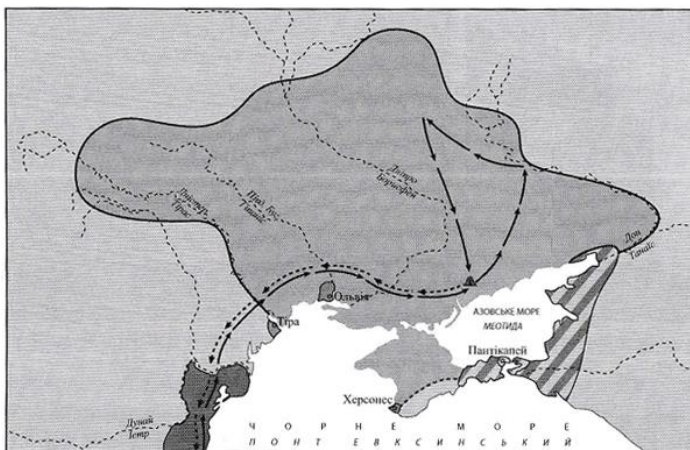
- А** Кия та Аскольда
- Б** Олега та Ігора
- В** Ольги та Святослава
- Г** Володимира Великого та Ярослава Мудрого

На карто-схемі заштриховано територію, що увійшла до складу УРСР на підставі договору між СРСР та



- А** Румунією.
- Б** Польщею.
- В** Чехословаччиною.
- Г** Угорщиною.

Проаналізуйте зображену картосхему



Картосхема дає змогу

- 1 окреслити територію Антського царства.
- 2 указати основний шлях грецької колонізації.
- 3 визначити межі розселення племен трипільської культури.
- 4 указати територію Боспорського царства.
- 5 окреслити територію Великої Скіфії.
- 6 указати напрямок походу перського царя Дарія I.
- 7 визначити торговельний шлях «із варяг у греки».

На картосхемі зображено напрямок військових походів великого князя київського.



Землі яких союзів племен увійшли до складу Русі в результаті цих походів?

- А** полян і древлян
- Б** волинян і білих хорватів
- В** сіверян і в'ятичів
- Г** уличів і тиверців

У якому році до складу УРСР увійшли території, заштриховані на картосхемі?



- А** 1938 р.
- Б** 1939 р.
- В** 1940 р.
- Г** 1941 р.

Проаналізуйте зображену картосхему.



Картосхема дає змогу

- 1 визначити події першого Кримського походу московсько-українського війська (травень-червень 1687 р.).
- 2 указати місце остаточної ліквідації царським урядом Запорозької Січі.
- 3 визначити межі територій, охоплених козацьким повстанням на чолі з С. Палієм.
- 4 окреслити межі «Великого князівства Руського» за Гадяцьким договором.
- 5 визначити хід бойових дій Північної війни на українських землях.
- 6 указати території, що за умовами Бахчисарайського договору, мали залишатися незаселеними.

7окреслити території, на які поширювалася влада гетьмана І. Мазепи.

На карті позначено територію Гетьманщини



А за умовами Зборівського договору 1649 р., а також землі, втрачені за умовами Білоцерківського договору 1651 р.

Б на час укладення українсько-російського договору 1654 р. та сусідні землі, контрольовані Військом Запорозьким у 1654–1657 рр.

В на час укладення Гадяцького договору 1658 р. та землі, що були включені до складу Великого князівства Руського за його умовами.

Г об'єднану гетьманом П. Дорошенком у 1668 р., та землі, над якими в 1671 р. Річ Посполита відновила свою владу.

На карті позначено території, що ввійшли до складу Російської та Австрійської імперій під час різних поділів Речі Посполитої.

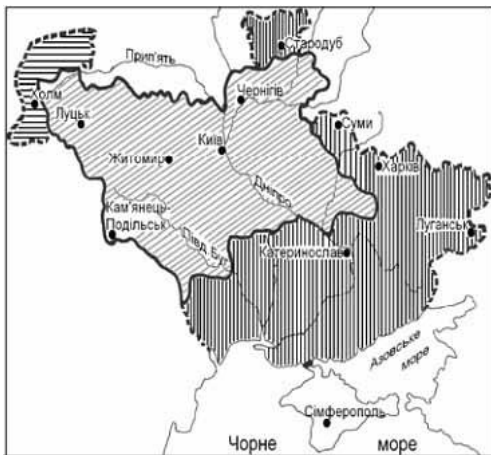
Результати якого з поділів відображено на карті?



- А** тільки Першого
- Б** Першого та Другого
- В** тільки Другого
- Г** Другого та Третього

На карті заштриховано територію

1. поширення повноважень Генерального секретаріату відповідно до «Тимчасової інструкції Генеральному секретаріатові Тимчасового уряду на Україні».
2. на яку Генеральний секретаріат поширив свою владу після падіння Тимчасового уряду.
3. передану Українській Народній Республіці за умовами Брест-Литовського мирного договору.



- A**1, 2
- B**2, 3
- B**1, 3
- Г**1, 2, 3

Чи правильне твердження?

На карті заштриховано територію:

1. Українських земель, які ввійшли до складу Польського королівства внаслідок укладення Люблінської унії 1569 р.
2. Української козацької держави – Гетьманщини – відповідно до умов Зборівського мирного договору 1649 р.



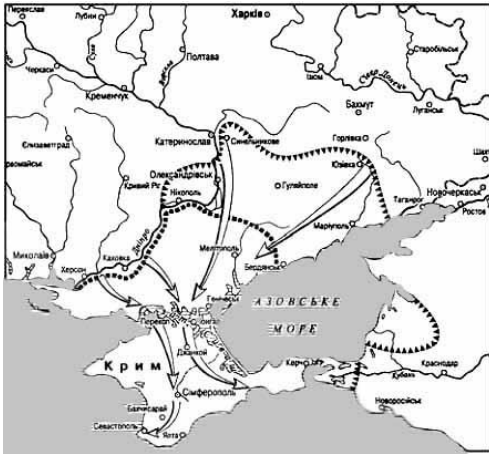
- A** обидва варіанти правильні
- B** тільки 1-й варіант правильний
- B** тільки 2-й варіант правильний
- Г** обидва варіанти не правильні

На карті заштриховано районну спеціалізацію наприкінці XIX – на початку XX ст.:



- A** товарного садівництва
- B** товарного бурякового виробництва
- B** товарного виноробства
- Г** товарного зернового виробництва

Перебіг яких подій відображено на карті?



- А** витіснення у 1919 р. арміями Н. Махна та М. Григор'єва військ Антанти з Півдня України та Криму
- Б** контрнаступ Червоної Армії та розгром військ генерала А. Денікіна на Сході та Півдні України в 1919 р.
- В** контрнаступ Червоної Армії та розгром військ генерала П. Врангеля на Півдні України та в Криму в 1920 р.
- Г** придушення в 1921 р. антибільшовицьких селянських повстань Півдня України та Криму військами Південного фронту під командуванням М. Фрунзе

На карті позначено лінію фронту часів Великої Вітчизняної війни станом на:



- А** вересень 1941 р.
- Б** листопад 1942 р.
- В** березень 1943 р.
- Г** жовтень 1943 р.

На карті заштрихована територія



- А** Радянської Соціалістичної Республіки Тавриди в червні 1920 р.
- Б** контрольована Російською армією барона Врангеля в грудні 1920 р.
- В** передана УНР за умовами Брест-Литовського договору 1918 р.
- Г** окупована військами Антанти наприкінці січня 1919 р.

У якому році до складу УРСР увійшла територія, заштрихована на картосхемі?



- А 1939 р.
- Б 1940 р.
- В 1945 р.
- Г 1954 р.

Проаналізуйте зображену картосхему.



Картосхема дає змогу

- 1 визначити перебіг подій першої війни радянської Росії проти Української Народної Республіки (грудень 1917 – лютий 1918 р.).
- 2 вказати напрямки загального наступу Добровольчої армії генерала А. Денікіна в травні–червні 1919 р.
- 3 вказати межу просування польських військ під час польсько-радянської війни (квітень–жовтень 1920 р.).
- 4 показати лінію розмежування військ у Першій світовій війні на момент укладення перемир'я на Східному фронті в грудні 1917 р.
- 5 окреслити територію ЗУНР відповідно до ухвали Української Національної Ради 19 жовтня 1918 р.
- 6 визначити кордони Української Народної Республіки згідно з III Універсалом Української Центральної Ради (листопад 1917 р.).
- 7 визначити радянсько-польський кордон за Ризьким мирним договором у березні 1921 р.

За наведеною картосхемою можна схарактеризувати зовнішньополітичну діяльність київських князів



- А** Олега та Ігоря.
- Б** Аскольда та Святослава.
- В** Володимира Мономаха та Мстислава Великого.
- Г** Володимира Великого та Ярослава Мудрого.

На картосхемі штрихуванням позначено регіон, до якого наприкінці XIX - на початку XX ст. спрямовувалися іноземні інвестиції у



- А** вирощування цукрового буряку та виробництво цукру.
- Б** розведення худоби та переробку м'яса й шкіри на експорт.
- В** видобування нафти та виробництво нафтопродуктів.
- Г** видобування кам'яного вугілля та виплавку чорних металів.

На картосхемі штрихуванням позначено територію



- А** формування радянських повстанських загонів улітку 1918 р.
- Б** контрольовану Добровольчою армією генерала А. Денікіна в жовтні 1919 р.
- В** створення численних парафій Української автокефальної православної церкви в 1921-1930 рр.
- Г** уражену масовим голодом 1921-1923 рр.

Якою цифрою на картосхемі позначено рейхскомісаріат «Україна» - адміністративно-територіальну одиницю німецького окупаційного цивільного управління в роки Другої світової війни?



- А1**
- Б2**
- В3**
- Г4**

Якою цифрою на картосхемі позначено Місце розташування Мізинської стоянки - археологічної пам'ятки доби палеоліту?



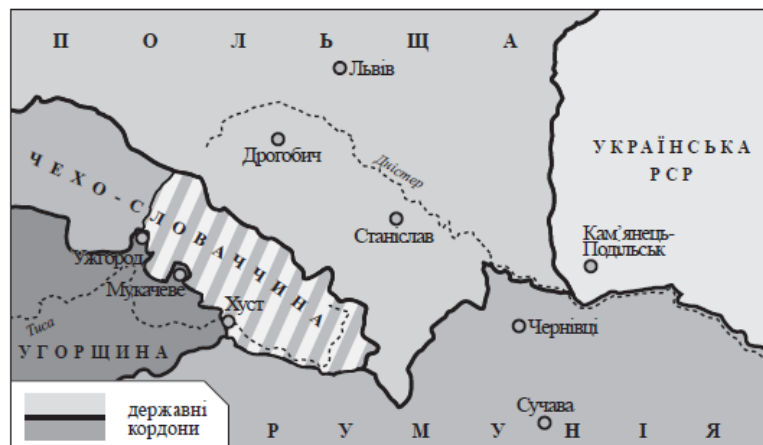
- А1
- Б2
- В3
- Г4

На картосхемі заштриховано




- А межі єпархій греко-католицької церкви на початку ХХ ст.
- Б території губерній, на які в 1911 р. було поширено земську реформу.
- В район розміщення головних підприємств синдикату «Продвугілля».
- Г регіон масової трудової еміграції селян до Північної Америки.

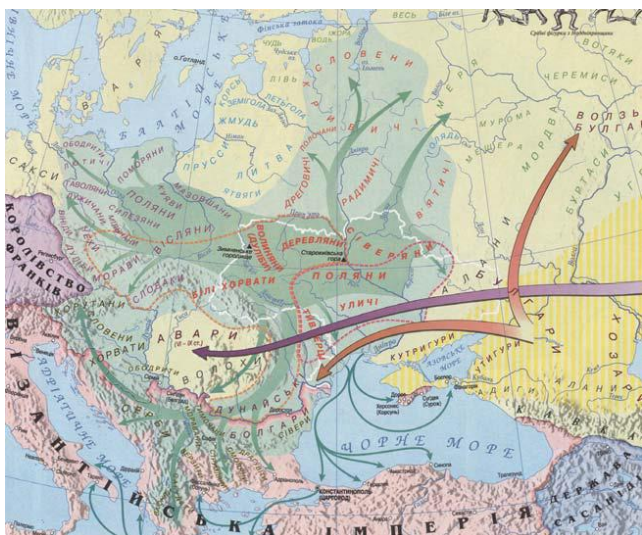
Проаналізуйте наведену картосхему та дайте відповідь на запитання.



Хто з діячів, зображених на фото, був Президентом державного утворення, позначеного на картосхемі штрихуванням?



На картосхемі відображено історичний процес, що тривав упродовж



- А** I–IV ст.
- Б** V–VII ст.
- В** VIII–IX ст.
- Г** X–XI ст.