

Урок_11 Налаштування ефектів анімації

Завдання #1

Запитання:

У разі встановлення кількох анімаційних ефектів до певного об'єкта слайду ці ефекти:

Виберіть один з 4 варіантів відповіді:

- 1) додаються до попередніх ефектів виділеного слайда
- 2) замінюють один одного для виділеного слайда
- 3) поширюються на усі об'єкти поточного слайда
- 4) обов'язково застосовуються до усіх слайдів презентації

Завдання #2

Запитання:

Під час встановлення анімаційних ефектів до певного об'єкта слайда, можна налаштувати:

Виберіть декілька з 4 варіантів відповіді:

- 1) зникнення об'єкта зі слайда
- 2) появу об'єкта на слайді
- 3) вигляд об'єкта під час демонстрації слайда
- 4) шляхи переміщення об'єкта на площині слайда

Завдання #3

Запитання:

Установіть відповідність між назвами груп анімаційних ефектів об'єкту слайда і їхнім призначенням.

Вкажіть відповідність для всіх 4 варіантів відповіді:

- 1) Об'єкт з'являється на слайді
- 2) Об'єкт змінює своє положення на слайді
- 3) Об'єкт змінює свій вигляд
- 4) Об'єкт зникає зі слайда

- Вхід
- Виділення
- Вихід
- Шляхи переміщення

Завдання #4

Запитання:

Установіть порядок дій для додавання анімаційного ефекту до об'єкта.

Вкажіть послідовність всіх 4 варіантів відповіді:

- Вибрати у списку потрібний ефект анімації.
- Відкрити вкладку Анімація.
- Відкрити список ефектів вибором кнопки Додатково в групі Анімація.
- Вибрати об'єкт на слайді.

Завдання #5

Запитання:

Встановіть відповідність між назвами груп ефектів анімації об'єктів слайдів та їх значкам:

Вкажіть відповідність для всіх 4 варіантів відповіді:

- 1) Шляхи переміщення
- 2) Вхід
- 3) Виділення
- 4) Вихід



Завдання #6

Запитання:

Позначте правильні твердження.

Виберіть декілька з 5 варіантів відповіді:

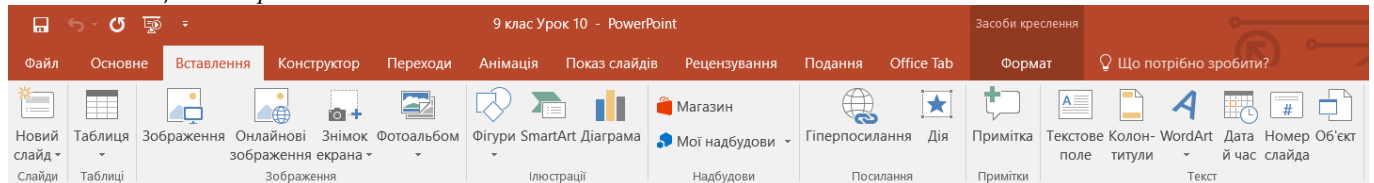
- 1) до одного об'єкта може бути додано лише один ефект
- 2) до одного об'єкта може бути додано кілька ефектів з однієї групи
- 3) до одного об'єкта може бути додано кілька ефектів з різних груп
- 4) ефекти анімації можуть бути додані лише до графічних об'єктів
- 5) ефекти анімації можуть бути додані як до графічних, так і до текстових об'єктів

Завдання #7

Запитання:

Вкажіть на вкладку управління анімацією об'єктів на слайдах

Вкажіть місце на зображенні:

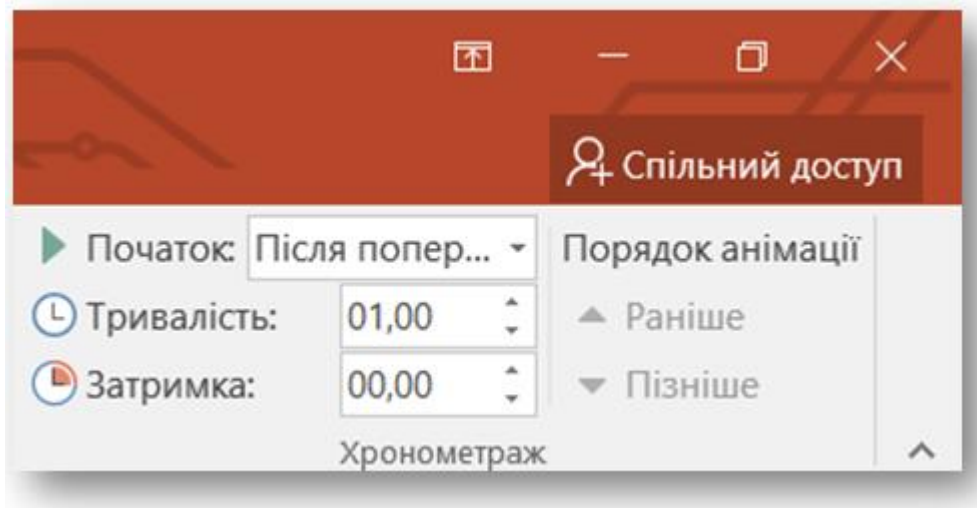


Завдання #8

Запитання:

Вкажіть на елемент Установлення тривалості ефекту

Вкажіть місце на зображенні:

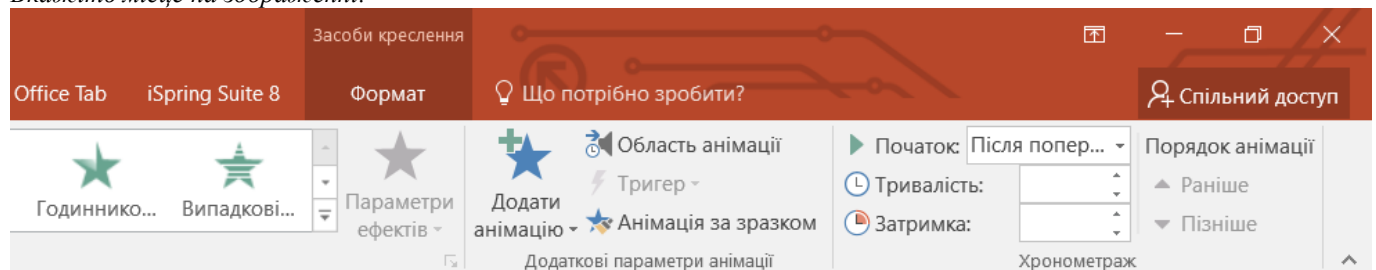


Завдання #9

Запитання:

Вкажіть на кнопку відкриття *Області анімації*

Вкажіть місце на зображенні:



Завдання #10

Запитання:

Вкажіть на позначку: Номер ефекту в послідовності ефектів на слайді

Вкажіть місце на зображенні:




Завдання #11

Запитання:

Вкажіть на позначку: Початок ефекту - після клацання лівої кнопки миші

Вкажіть місце на зображенні:



Завдання #12

Запитання:

Вкажіть на позначку: Ефект з групи Виділення

Вкажіть місце на зображенні:



Завдання #13

Запитання:

Вкажіть на позначку: Об'єкт, до якого застосовується ефект

Вкажіть місце на зображенні:




Завдання #14

Запитання:

Вкажіть на позначку: Часова шкала. Позиція лівого краю відповідає затримці перед початком відтворення ефекту, позиція правого краю - часу завершення. Довжина шкали - тривалість ефекту

Вкажіть місце на зображенні:



Завдання #15

Запитання:

Вкажіть на позначку: Кнопка відкриття списку з командами налаштувань ефекту

Вкажіть місце на зображенні:

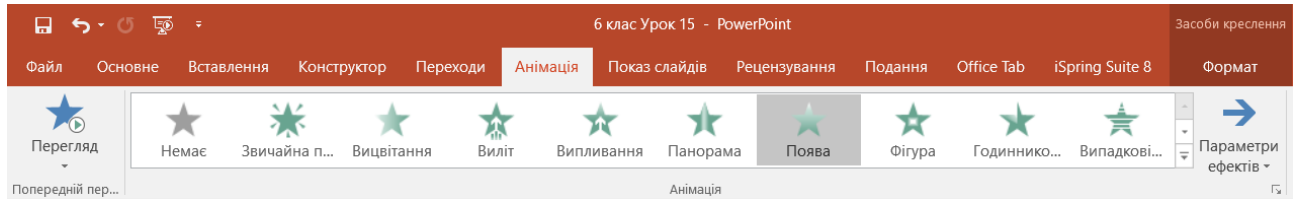


Завдання #16

Запитання:

Вкажіть на кнопку щоб переглянути, як відтворюється ефект анімації об'єкта

Вкажіть місце на зображенні:



Відповіді:

2) (1 б.) Правильні відповіді: 1; 2; 3; 4;

3) (2 б.) Правильні відповіді:

1;

3;

4;

2;

4) (2 б.) Правильні відповіді:

4;

2;

3;

1;

5) (1 б.) Правильні відповіді:

2;

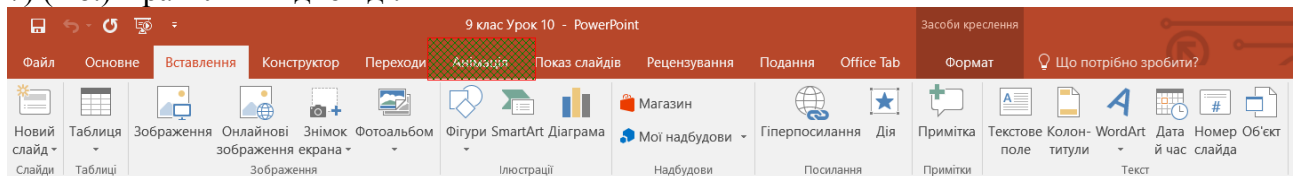
3;

4;

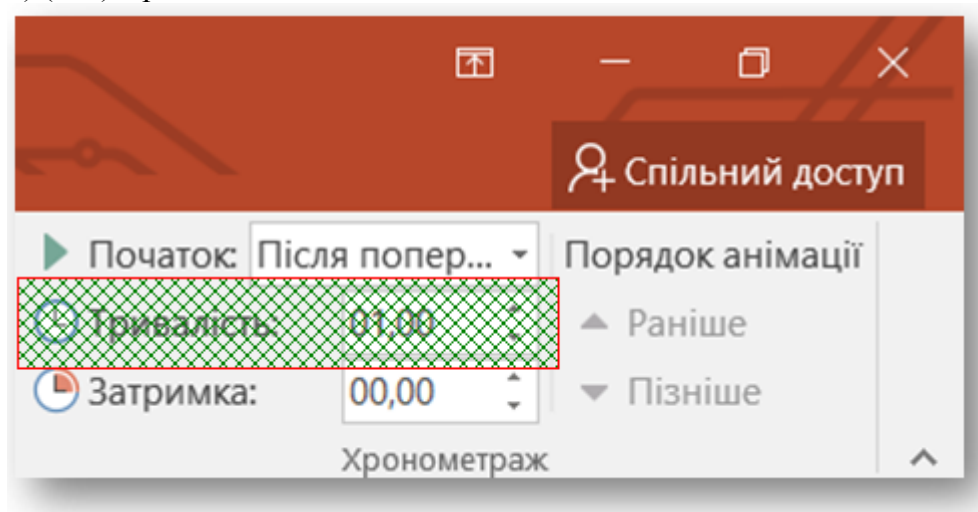
1;

6) (1 б.) Правильні відповіді: 2; 3; 5;

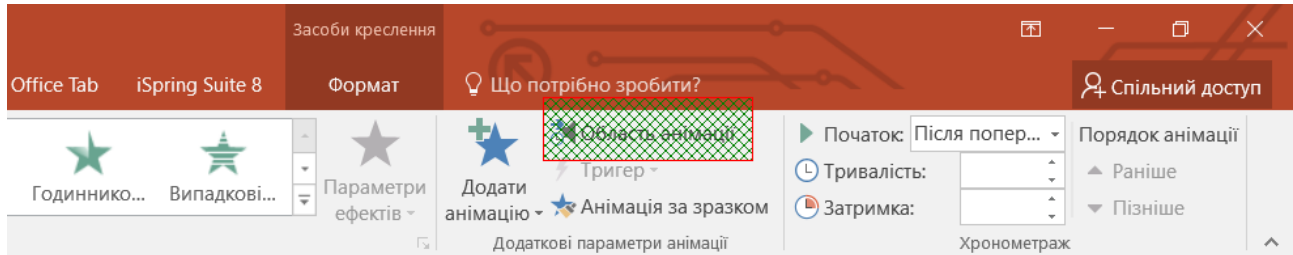
7) (1 б.) Правильні відповіді:



8) (1 б.) Правильні відповіді:



9) (1 б.) Правильні відповіді:



10) (1 б.) Правильні відповіді:




11) (1 б.) Правильні відповіді:




12) (1 б.) Правильні відповіді:



13) (1 б.) Правильні відповіді:



14) (1 б.) Правильні відповіді:



15) (1 б.) Правильні відповіді:



16) (1 б.) Правильні відповіді:

