

УРОК № 12. Вставлення на слайд і форматування графічних примітивів

1°. Установіть відповідність між елементами керування групи **Зображення** вкладки **Вставлення** та графічними об'єктами, які можуть бути вставлені на слайд комп'ютерної презентації з їх використанням.

Елемент керування	
1	 Фігури ▼
2	 Рисунок
3	 Графіка


Об'єкт	
А	Зображення з файла
Б	Зображення з колекції кліпів Microsoft
В	Векторний графічний примітив





Відповідність: 1 – _____, 2 – _____, 3 – _____.

2°. Запишіть літери в порядку, який відповідає правильній послідовності команд алгоритму вставлення графічного примітива на слайд комп'ютерної презентації, та впишіть пропущені слова.

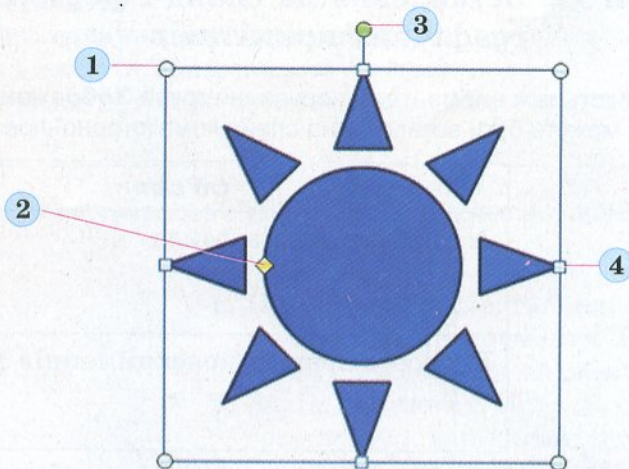
- А. Вибрати у списку кнопки потрібний інструмент.
- Б. Виділити на слайді область для розміщення примітива.
- В. Виконати **Вставлення** ⇒ **Зображення** ⇒ _____.

Відповідь: _____

 3°. Запустіть програму **PowerPoint**. Виконайте **Вставлення** ⇒ **Зображення** ⇒ **Фігури**. Перегляньте, на які групи розподілені фігури, що можна вставити на слайд презентації. Наведіть вказівник на зображення фігур, щоб побачити назву відповідного інструмента. Упишіть у таблицю назви інструментів для вставлення наведених фігур та імена відповідних груп.





Фігура	Інструмент	Група
		
		
		
		

4*. Запустіть програму **PowerPoint**. Виконайте **Вставлення** ⇒ **Зображення** ⇒ **Фігури** ⇒ **Основні фігури** ⇒ **Сонце**, виберіть місце на слайді. Переміщуючи маркери, позначені на малюнку, визначте та запишіть їх призначення.



1	
2	
3	
4	

5°. Упишіть у таблицю призначення елементів керування вкладки **Формат** розділу **Засоби креслення**.

Зображення елемента керування	Призначення
 <p>Стилі фігур</p>	
 Заливка фігури ▾	
 Контур фігури ▾	
 Ефекти для фігур ▾	

6°. Установіть відповідність між зображеннями елементів керування вкладки **Формат** розділу **Засоби креслення** та списками, які відкриваються за вибором цих елементів керування.

1	2	3	4

А	Б	В	Г

Відповідність: 1 – _____, 2 – _____, 3 – _____, 4 – _____.

7°. Графічні примітиви на слайді комп'ютерної презентації було відформатовано. Установіть відповідність між виглядом об'єкта та інструментом, з використанням якого виконано таке форматування.

Початковий вигляд	1	2	3	4

Інструмент	А	Б	В	Г

Відповідність: 1 – _____, 2 – _____, 3 – _____, 4 – _____.